



1 地方のなまえと都道府県 答え

めあて 地方のなまえと47都道府県のなまえをおぼえよう。



わたしたちの住んでいる「日本」は、大きく8つの地方にわかれ、47の都道府県から成り立っているよ。

トレーニング

◆ 地図を見ながら、地方のなまえをなぞりましょう。

近畿 地方

- 24 三重県
- 25 滋賀県
- 26 京都府
- 27 大阪府
- 28 兵庫県
- 29 奈良県
- 30 和歌山県

中国 地方

- 31 鳥取県
- 32 島根県
- 33 岡山県
- 34 広島県
- 35 山口県

九州 地方

- 40 福岡県
- 41 佐賀県
- 42 長崎県
- 43 熊本県
- 44 大分県
- 45 宮崎県
- 46 鹿児島県
- 47 沖縄県

中部 地方

- 15 新潟県
- 16 富山県
- 17 石川県
- 18 福井県
- 19 山梨県
- 20 長野県
- 21 岐阜県
- 22 静岡県
- 23 愛知県

北海道 地方

- 1 北海道

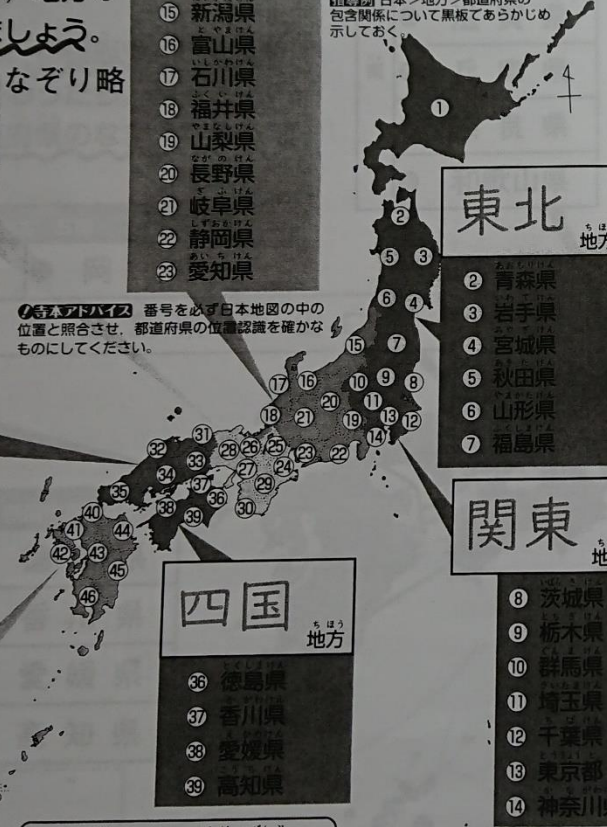
東北 地方

- 2 青森県
- 3 岩手県
- 4 宮城県
- 5 秋田県
- 6 山形県
- 7 福島県

関東 地方

- 8 茨城県
- 9 栃木県
- 10 群馬県
- 11 埼玉県
- 12 千葉県
- 13 東京都
- 14 神奈川県

番号を必ず日本地図の中の位置と照合させ、都道府県の位置認識を確かなものにしてください。



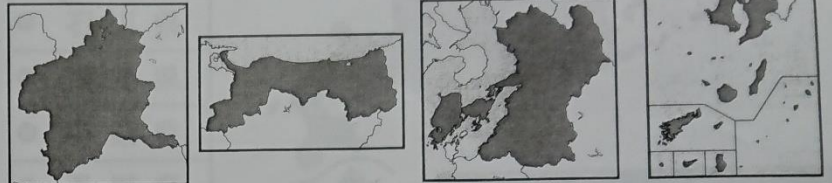
都道府県のなまえを一度に全部をおぼえることはむずかしいので、まずは地方ごとにわけておぼえよう。

8つの地方と47ある都道府県の位置をらばえよう。

トレーニング

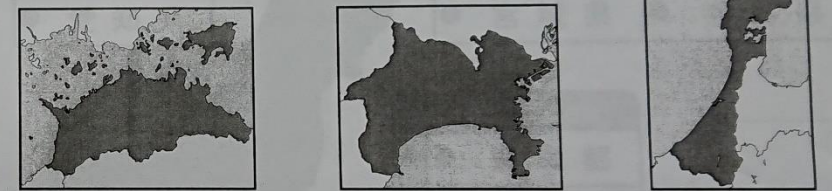
◆ 次の特色ある県のなまえをなぞりましょう。 ※1~3の県の形は、等しい倍りつてはありません。

1. 動物がなまえの一部につく県 なぞり略



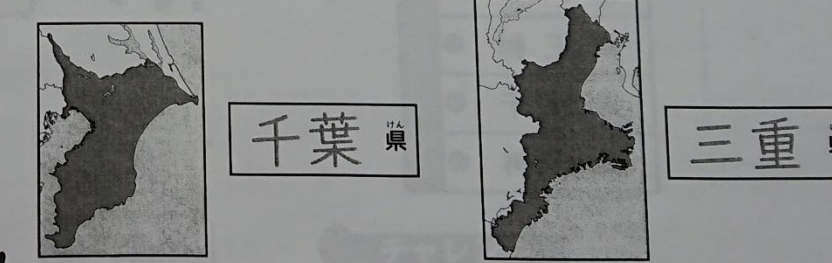
群馬県 鳥取県 熊本県 鹿児島県

2. 川がなまえの一部につく県



香川県 神奈川県 石川県

3. 数字がなまえの一部につく県



千葉県 三重県

チャレンジ

◆ 上の特色ある県は、左の日本地図の中のどこにありますか。さがしてみましょう。

- 群馬県→10
- 鳥取県→31
- 熊本県→43
- 鹿児島県→46

クイズ 日本で面積がいちばん大きい都道府県はどこ？

地図のきまり 地図を読む 地図の活用 地図から広げる

読むことのできるかな？



3 もう少し

2

47都道府県をおぼえよ 答え

めあて 47都道府県のなまえと位置をおぼえよう。

漢字で正しく都道府県名を書き、読むことができるようになります。



わたしたちの住んでいる「日本」は、47の都道府県から成り立っているよ。一度に全部をおぼえることはむずかしいので、地方ごとにかけておぼえよう。

トレーニング

◆ 地図を見ながら、都道府県のなまえを書きましょう。終わったら、地方ごとに声を出して、都道府県のなまえを言ってみましょう。

中国地方 5県

- | | |
|--------|--------|
| 31 鳥取県 | 33 岡山県 |
| 32 島根県 | 34 広島県 |
| | 35 山口県 |

九州地方 8県

- | |
|---------|
| 40 福岡県 |
| 41 佐賀県 |
| 42 長崎県 |
| 43 熊本県 |
| 44 大分県 |
| 45 宮崎県 |
| 46 鹿児島県 |
| 47 沖縄県 |

四国地方 4県

- | |
|--------|
| 36 徳島県 |
| 37 香川県 |
| 38 愛媛県 |
| 39 高知県 |

近畿地方 2府5県

- | | |
|---|---------|
| 府 | 26 京都府 |
| | 27 大阪府 |
| 県 | 24 三重県 |
| | 25 滋賀県 |
| | 28 兵庫県 |
| | 29 奈良県 |
| | 30 和歌山県 |

中部地方 9県

- | |
|--------|
| 15 新潟県 |
| 16 富山県 |
| 17 石川県 |
| 18 福井県 |
| 19 山梨県 |
| 20 長野県 |
| 21 岐阜県 |
| 22 静岡県 |
| 23 愛知県 |

北海道地方

- | |
|-------|
| 1 北海道 |
|-------|

東北地方 6県

- | | |
|-------|-------|
| 2 青森県 | 5 秋田県 |
| 3 岩手県 | 6 山形県 |
| 4 宮城県 | 7 福島県 |

関東地方 1都6県

- | | |
|---|---------|
| 都 | 13 東京都 |
| 県 | 8 茨城県 |
| | 9 栃木県 |
| | 10 群馬県 |
| | 11 埼玉県 |
| | 12 千葉県 |
| | 14 神奈川県 |

チャレンジ

◆ 海に面していない県を地図でさがして、赤色をぬりましょう。 略

海に面していない県は、全部で8つあるよ。さがしてみよう。



日本で面積がいちばん小さい都道府県はどこ？


地図のきまり

地図を読む

地図の活用

地図から広げる

終わったらこれかーしに色をぬりまじみ。



5 もう少し



3 わたしたちの県は、どのあたりにあるのかな

答え

めあて 日本地図を使って、自分の住んでいる県(都・道・府)の位置調べよう。

トレーニング

◆ 日本地図を見て答えましょう。



わたしたちの住んでいる県(都・道・府)の位置は、どのようにして表すことができるかな？

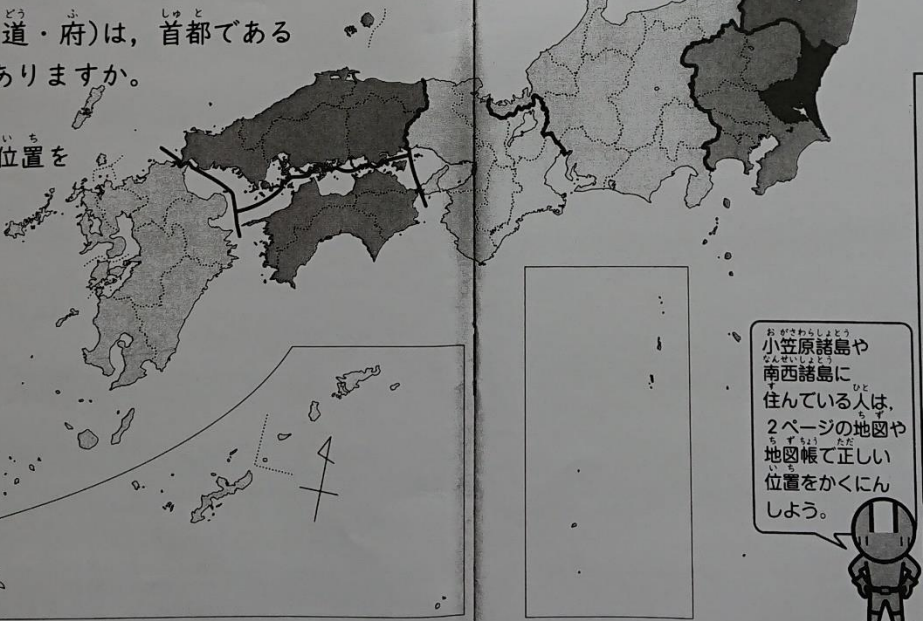
- あなたの住んでいる県(都・道・府)に赤色をぬりましょう。色をぬった近くに、あなたの住んでいる県(都・道・府)のなまえを漢字で書きましょう。
- あなたの住んでいる県(都・道・府)ととなり合っている県(都・道・府)のなまえをすべて書きましょう。

わたしたちの住んでいるところ→東京都
 とり合っている県→神奈川県、千葉県、埼玉県、山梨県

- あなたの住んでいる県(都・道・府)は、首都である東京都から見てどのあたりにありますか。八方位で説明しましょう。(東京都の人は、京都府から見た位置を説明しましょう。)

(例) 東京都は、京都府から見て、東にあります。

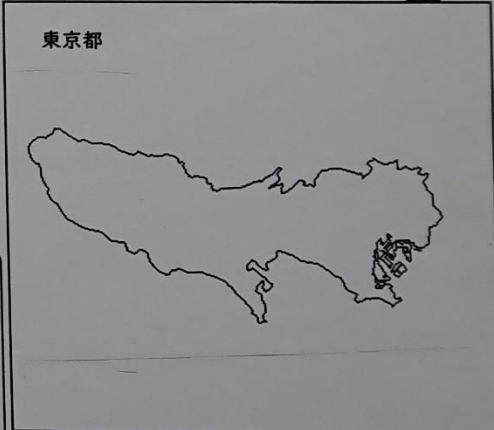
「●●県は、東京都から見て、南西にあります。」という感じで書いてみよう。



チャレンジ

- ◆ 左の日本地図を見ながら、あなたが住んでいる県(都・道・府)の形を下の□にかいてみましょう。そして、あなたが住んでいる県(都・道・府)は、何の形に見えたか説明しましょう。

三重県の形は、タツノオトシゴにていると思う。



小笠原諸島や南西諸島に住んでいる人は、2ページの地図や地図帳で正しい位置をかくにんしよう。



何の形に見えましたか。
(例) 魚の形・リス など...

クイズ 福岡駅はどこにある？ 1. 福岡県 2. 富山県 3. 秋田県

地図のきまり
地図を読む
地図の活用
地図から広げよう

終わったところかーに色をぬりましょう。
できた
まあまあ
がんばり



4 かんたんな日本地図をかいてみる

答え

めあて 4つの大きな島を組み合わせ、日本地図をかけるようになるよ。

日本は4つの大きな島で成り立っていることがわかり、本州やほかの3つの島の形を

かんたんな日本地図をかくと、社会科の学習で都道府県や自分の住んでいる地いきの位置の説明がしやすくなるよ。



トレーニング

◆ 日本地図をなぞってみよう。

1. 日本地図の外がわ(海岸線)を大まかに指でなぞってみよう。
2. -----でしめされた部分をえんぴつでなぞってみよう。

日本は、北海道、本州、四国、九州の4つの大きな島と、そのほかのたくさんの島々が南北に連なっているよ。



だいたい120度

北海道は、四角形と三角形を使うとかきやすいみたい。



-----をえんぴつでなぞることで、大まかに、日本の4つの大きな島の形をイメージしてみよう。



四角形が長い本州は、島根県あたりに目をかくと、ワニの横顔に見えると思う。



九州地方は、なぞると五角形にしているよ。



チャレンジ

◆ 左のページの日本地図でなぞった点線-----を手本にして、かんたんな日本地図をかいてみましょう。

用意するもの
ものさし 分度器

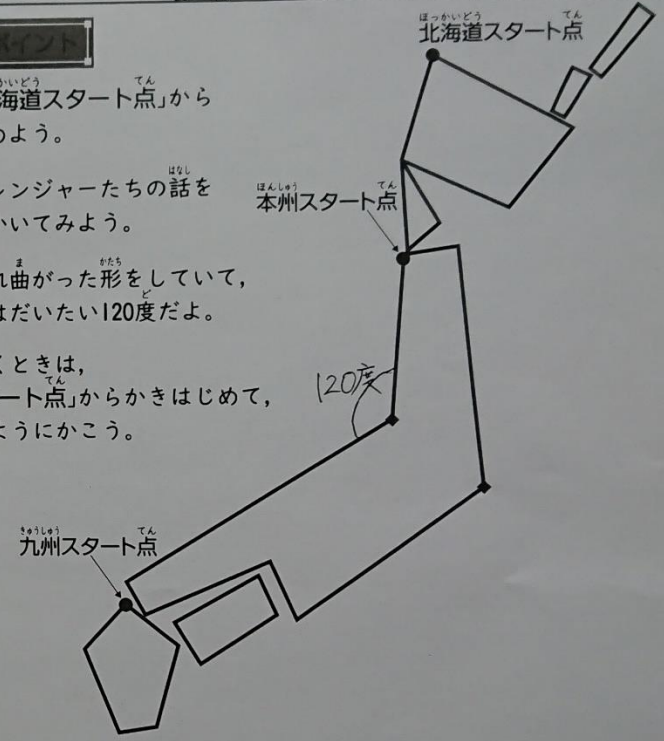
ここでは分度器を用意したほうがいいね。



120度って、時計の12時45分のはりの向きに、にているよ。

かくときのポイント

- 右上の「北海道スタート点」からかきはじめよう。
- 左の地図レンジャーたちの話をヒントにかいてみよう。
- 本州は折れ曲がった形をしていて、その角度はだいたい120度だよ。
- 本州をかくときは、「本州スタート点」からかきはじめて、◆を通るようにかこう。



ちょこっと休けい

面積を広い順に並べると……

- 1位 本州
- 2位 北海道
- 3位 九州
- 4位 四国

地図のきまり

地図を読む

地図の活用

地図が広がる

終わったらこれを100回めくって……